

MIÉRCOLES 18 DE AGOSTO

MATEMÁTICA

## FRACCIONES


### PARA TENER EN CUENTA

LINEA DE FRACCIÓN O DIVISIÓN

2 → NUMERADOR

7 → DENOMINADOR

- El **numerador** indica cuántas partes voy a tomar del entero.
- El **denominador** indica en cuántas partes voy a partir el entero.
- Representación gráfica de una fracción: Ejemplo  $2/7 =$



1- Representa gráficamente las siguientes fracciones.

A-  $\frac{1}{2}$

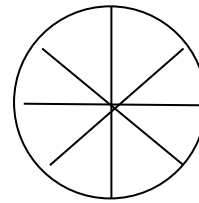
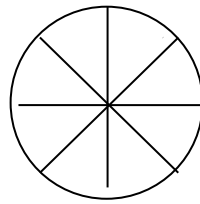
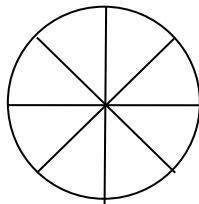
B-  $\frac{1}{4}$

C-  $\frac{2}{3}$

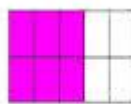
D-  $\frac{3}{8}$

E-  $\frac{8}{8}$

2- La abuela Enriqueta recibió a sus 4 nietos con 3 pastafrolas. ¿Cuántas porciones le tocarán a cada uno si las reparte en cantidades iguales? ¿Qué fracción de una pastafrola representan esas porciones?



3- Indica con una fracción qué parte de la figura o entero se pintó en cada caso, y qué parte falta colorear.



Se pintaron:

Falta pintar:

PRACTICAMOS PARA LA PRUEBA

1661 : 12=

**PRÁCTICAS DEL LENGUAJE**

### **LA NOTICIA**

- LEAN LA SIGUIENTE NOTICIA DEL PORTAL DIGITAL CLARIN  
[https://www.clarin.com/internacional/captan-primera-vez-anos-leopardo-nieves-especies-misteriosas-mundo\\_0\\_60eSjTShX.html](https://www.clarin.com/internacional/captan-primera-vez-anos-leopardo-nieves-especies-misteriosas-mundo_0_60eSjTShX.html)
- LUEGO DE LEER LA NOTICIA, CONTESTEN LAS SIGUIENTES PREGUNTAS:
  - A- ¿QUÉ PASÓ?
  - B- ¿POR QUÉ?
  - C- ¿DÓNDE?
  - D- ¿CUÁNDO?
  - E- ¿QUIÉN O QUIÉNES PARTICIPARON?