

VIERNES 3 DE SEPTIEMBRE

MATEMÁTICA

EL ENTERO Y LAS PARTES

1- Representa gráficamente las siguientes fracciones. Luego escribe como se leen:

A- $1/3=$

B- $2/5=$

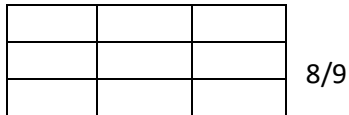
C- $4/6=$

D- $6/7=$



E- $5/10=$

F- $8/12=$

2- Colorea la fracción del entero que se indica en cada caso. Si es necesario, subdividí la figura:



$5/6$



3- El primer dibujo representa un sexto de una figura y el segundo, $3/8$ de otra. Dibujen la parte de la figura que se pudo haber borrado en cada caso.

